

Nom - Prénom :

Classe :

Volet géographique

.../40

I. Calais – ses fonctions



Observe le document 1

.../1

1. Nomme le type de bâtiment indiqué par une flèche et qui fait face à la mer.

.....

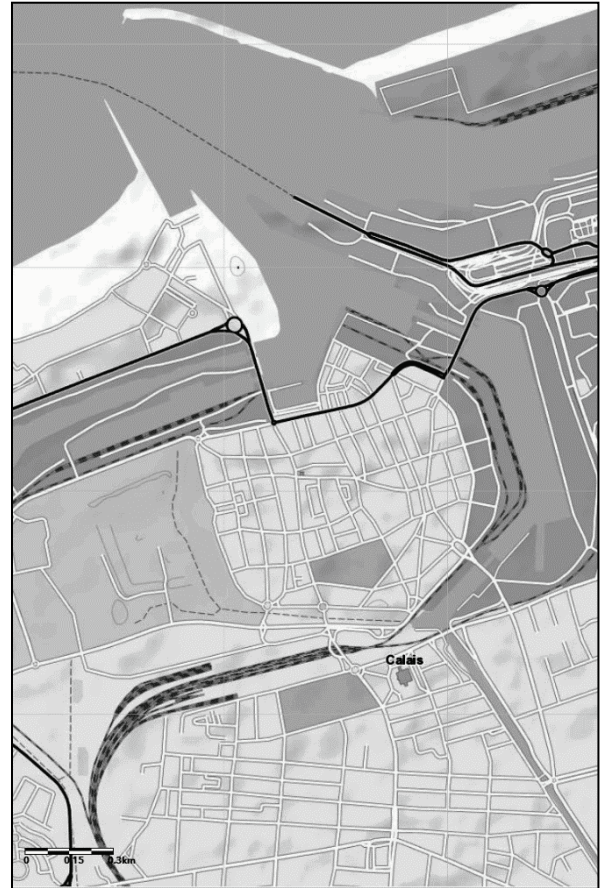
.../1

2. Dessine l'emplacement de ce bâtiment sur le plan ci-contre.

.../1

3. Nomme une fonction que tu peux identifier à l'avant-plan.

.....



Observe le document 2

Un parcours touristique est identifié par des numéros.

.../1

4. Retracer le trajet qui va de la Tour de Guet jusqu'au théâtre sur le plan ci-dessus.

.../1

5. Estime la longueur du trajet de la Tour de Guet jusqu'au théâtre (en mètres ou en kilomètres).

.....

.../1

6. Nomme la fonction des espaces repérés par le symbole



.....

.../1

7. Nomme la fonction des lieux repérés par le symbole



.....

.../1 8. Depuis la Tour de Guet, indique la direction cardinale dans laquelle se trouve le terminal « Eurostar ».

.../1 9. Coche l'affirmation correcte

Le plan touristique de Calais met en avant un tourisme ... :

- gastronomique sportif culturel balnéaire

Observe le document 3

.../1 10. Identifie un espace destiné au sport et positionne-le à l'aide de la lettre « S » sur le plan de la page précédente.

.../1 11. Nomme le type d'espace (ou milieu) qui domine sur cette vue verticale.

.../1 12. Sur la base de tes connaissances, nomme le phénomène de développement de l'habitat en périphérie d'une ville.

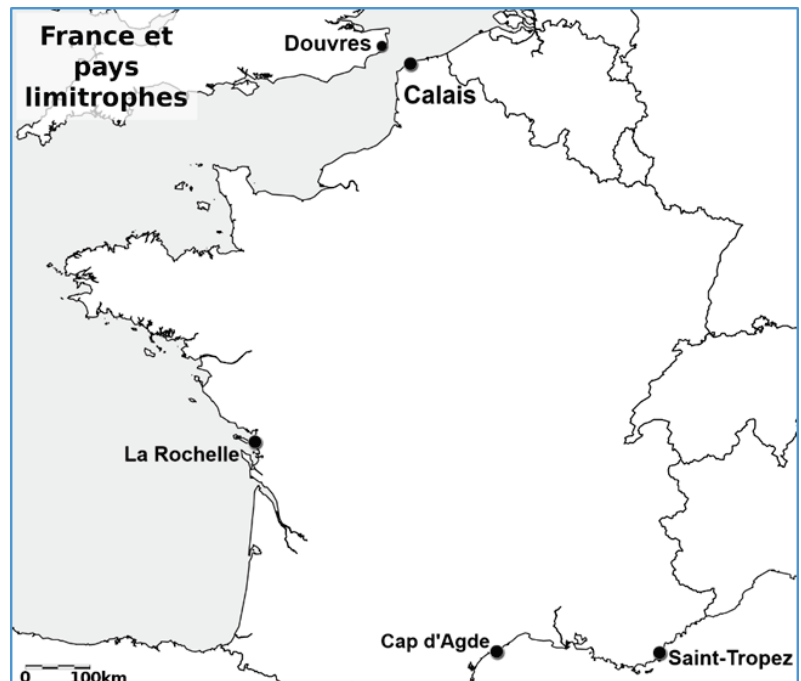
II. Repères à différentes échelles

.../2 13. Recopie sur la carte la lettre correspondant à chaque pays.

- B : Belgique
- F : France
- A : Allemagne
- R : Royaume-Uni

.../1 14. Sur la base de tes connaissances, complète la phrase suivante :

Un pays limitrophe est un pays



.../1 15. Le tunnel sous la Manche a été construit entre Calais et Douvres. Observe la carte ci-dessus et cite la raison qui explique sa construction à cet endroit.



Observe le document 4

.../4

16. Nomme les villes numérotées de 1 à 8.

1 =

2 =

3 =

4 =

5 =

6 =

7 =

8 =

.../1

17. Un espace peu peuplé est mis en évidence sur la carte. Situe-le en utilisant au moins deux repères spatiaux.

.../1

18. Coche la bonne réponse. **Les villes 5, 6, 7 et 8 se situent :**

à la limite entre la Flandre et la Wallonie ;

sur la frontière linguistique ;

à la limite entre l'Ardenne et la Flandre ;

dans le bassin industriel wallon.

.../1

19. Calcule la distance à vol d'oiseau entre Calais et Anvers.

.../1

20. Complète la phrase suivante en indiquant une direction cardinale.

Calais se situepar rapport à Anvers.



Observe le document 5

.../1

21. Nomme l'espace en France où l'ensoleillement est le moins important. Utilise au moins un repère spatial.

.../1

22. Nomme l'espace en France où l'ensoleillement est le plus important. Utilise au moins un repère spatial.



Observe le document 6

.../4

23. Nomme les mers, les océans, les reliefs et les cours d'eau repérés par les lettres.

G :

H :

K :

I :

J :

Y :

W :

X :

III. L'activité touristique à l'échelle de la France




Observe le **document 7**. Deux espaces où se situent les plus fortes concentrations de places de camping sont mis en évidence par un trait en pointillés (n°1 et n°2).

.../2 24. Situe ces deux espaces en utilisant au moins un repère hydrographique.

Espace 1 :

Espace 2 :

.../2 25.  Observe les **documents 5 et 6**. Cite deux éléments qui permettent de justifier pourquoi les campings sont particulièrement présents dans ces deux espaces.

.....

Les espaces où l'on observe le plus d'emplacements de camping ont essentiellement une activité touristique estivale.

.../1 26. Nomme la période de l'année qui correspond à la période « estivale ».

.....



Observe le **document 8**. Un espace remarquable est mis en évidence par un trait en pointillés (n°3).

.../1 27. Situe cet espace en utilisant au moins un repère spatial.

.....

.../1 28. Nomme une activité touristique spécifique à ce milieu (ou cet espace).

.....

.../1 29. Sur base de tes connaissances, cite un élément qui justifie pourquoi les campings sont moins présents dans cet espace.

.....

.../2 30. À l'aide des **documents 4 et 5** et de tes observations, cite un atout et une contrainte pour l'activité touristique à Calais.

- Atout :

- Contrainte :

I. Calais – le tourisme à Calais hier et aujourd’hui

Tu as découvert que Calais est une ville qui a une activité touristique. Cette activité repose notamment sur des éléments du passé.



Observe le document 2

Les 5 premières étapes du parcours touristique sont situées dans le centre historique de Calais qui date du Moyen Âge.

.../1 31. D’après tes connaissances, cite un élément qui délimite généralement la ville au Moyen Âge.

.....

.../1 32. Cite un élément visible sur le plan actuel qui délimite le centre historique de Calais.

.....

.../1 33. Le numéro 8 fait référence à une manufacture. Cite le phénomène historique qui transformera progressivement les manufactures en usines.

.....

.../1 34. Recopie un numéro de la légende du plan touristique en lien avec la Seconde Guerre mondiale.

.....

.../2 35. À partir de l’observation du plan, cite deux autres bâtiments historiques que le touriste pourrait visiter en dehors du parcours.

■ | ■

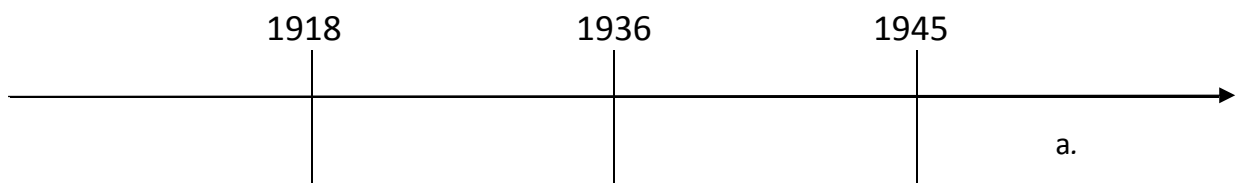
II. Le développement des loisirs et du tourisme



Lis attentivement le document 13

.../2 36. Écris la lettre correspondant à l’apparition de chaque fait ou phénomène sous la représentation du temps. Aide-toi de l’exemple « a ».

- a. Création des villages de vacances
- b. Développement du tourisme
- c. Temps libres et loisirs réservés aux bourgeois
- d. Loisirs et vacances pour tous
- e. Démocratisation des spectacles et des sports



.../1

37. Coche le titre adapté à la représentation du temps de la question précédente.

- Les loisirs bourgeois aux XIX^e et XX^e siècles.
- Le développement du temps libre et des loisirs pour tous.
- Les luttes ouvrières.
- Comment occuper son temps libre ?
- L'évolution des droits des travailleurs.

.../1

38. 1936 est une date clé en ce qui concerne l'accès aux loisirs. Cite le fait qui s'y rapporte.

.....

Les sociétés industrielles modifient les usages du temps mais aussi l'organisation du travail.

.../2

39. Cite deux caractéristiques de l'organisation du travail dans les sociétés industrielles du XIX^e siècle.

■ | ■



Observe le document 14

.../2

40. Cite 2 moyens de transport mis à disposition des touristes.

■ | ■

.../1

41. Cite deux autres infrastructures mises à disposition des touristes.

■ | ■

.../2

42. Cite quatre loisirs proposés aux touristes.

■ | ■
■ | ■

III. Calais avant le développement des loisirs et du tourisme



Lis attentivement le document 9

.../1

43. Coche la bonne case. L'origine du nom de Calais est ...

- ... certaine.
- ... hypothétique.

.../1

44. Écris une information extraite du document pour justifier ton choix.

.....

Sur la base de tes connaissances

.../1 45. Nomme la période conventionnelle durant laquelle vivaient les Celtes, les Gaulois et les Romains.

.....

.../1 46. Nomme la période conventionnelle qui débute en 476 après J.-C.

.....

.../1 47. Cite l'évènement qui a eu lieu en 476 après J.-C.

.....



Lis attentivement le document 10

.../1 48. Coche la bonne case. Le document 10 est un document... original reconstitué

.../1 49. Coche la bonne case. L'auteur du message est ... un spécialiste un témoin

.../1 50. Cite deux éléments qui caractérisent les conditions de vie dans la ville de Calais en 1347.

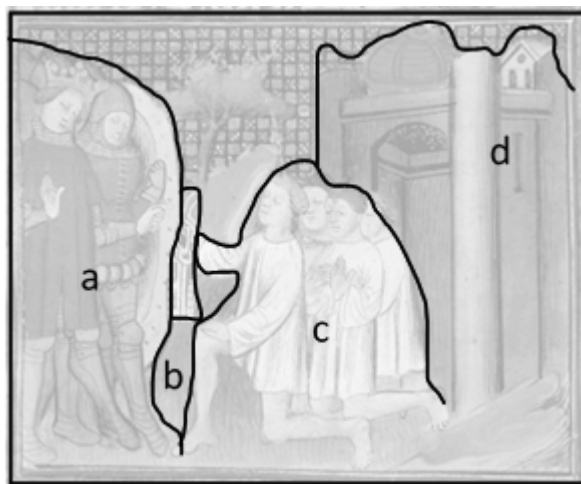
■ | ■



Observe les documents 10, 11 et 12

.../2 51. Nomme les différents éléments identifiés par des lettres sur l'enluminure.

- a.
- b.
- c.
- d.



.../1,5 52. Entoure le siècle de production des documents

Document 10 : 13^e s. – 14^e s. – 15^e s.

Document 11 : 13^e s. – 14^e s. – 15^e s.

Document 12 : 18^e s. – 19^e s. – 20^e s.

.../1,5 53. Nomme la nature des documents

Document 10

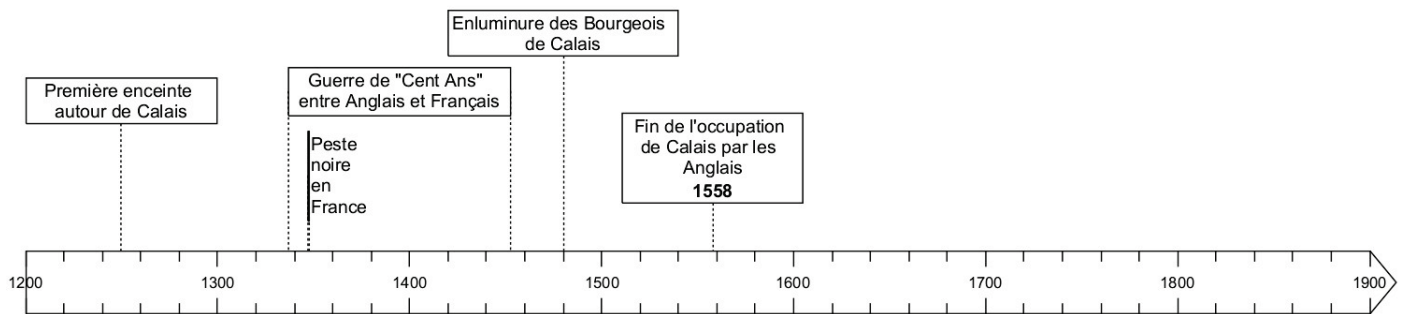
Document 11

Document 12

- .../1 54. Auguste Rodin réalise une sculpture en 1895 appelée « les Bourgeois de Calais ». Coche la bonne réponse.

Cette sculpture commémore :

- L'arrivée des bourgeois à Calais au XIX^e siècle.
- Le développement du tourisme pour les bourgeois.
- Un fait historique médiéval.
- La fin de l'industrie, et donc des bourgeois, à Calais.



- .../2 55. Colorie sur la ligne du temps la période correspondant aux Temps modernes.

- .../1 56. Positionne sous la ligne du temps la prise de Calais par les Anglais.

- .../1 57. Positionne sous la ligne du temps la sculpture réalisée par Rodin.

Sur la base de la ligne du temps.

- .../1 58. Cite un événement contemporain à la prise de Calais par les Anglais.

.....

- .../1 59. Complète la phrase.

La guerre de Cent Ans a eu lieu aux et siècles.

- .../1 60. Coche la bonne proposition.

La ville de Calais a été occupée par les Anglais durant... :

- 50 ans deux siècles deux millénaires 350 ans

- .../2 61. Coche la bonne proposition.

La fortification de Calais est antérieure à la guerre de Cent Ans.	<input type="checkbox"/> Vrai <input type="checkbox"/> Faux
La découverte des Amériques par Christophe Colomb est contemporaine à la guerre de Cent Ans.	<input type="checkbox"/> Vrai <input type="checkbox"/> Faux